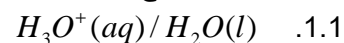


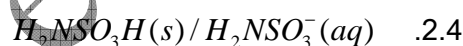
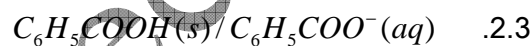
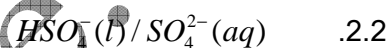
التمرين 02

www.pc-lycee.com

1. أعط أسماء الأنواع الكيميائية واكتب أنصاف المعادلات للمزدوجات قاعدة/حمض التالية:



2. أكتب أنصاف المعادلات لكل من المزدوجات قاعدة/حمض التالية :



Mohammed Sobhi