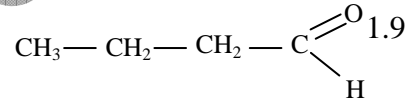
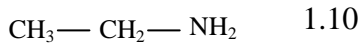
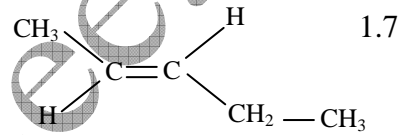
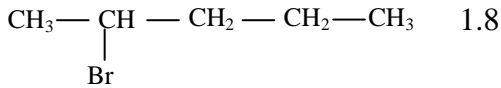
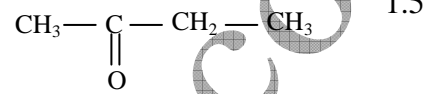
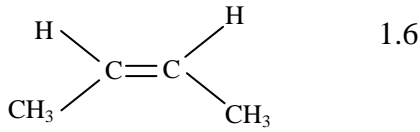
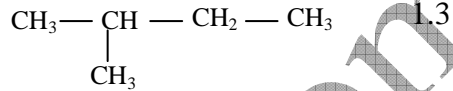
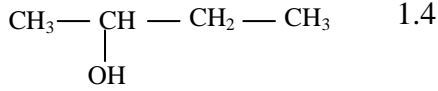
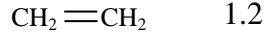


التمرين 01

www.pc-lycee.com

1. أكتب الصيغ الطوبولوجية المقابلة للصيغ نصف منشورة التالية:



2. أكتب الصيغ نصف منشورة المقابلة للصيغ الطوبولوجية التالية :

