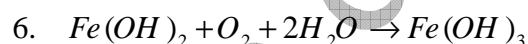
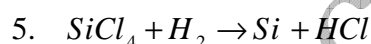
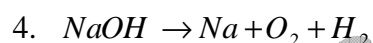
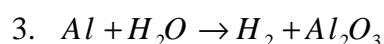
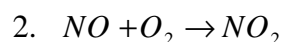
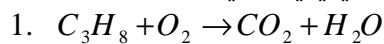
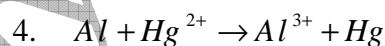
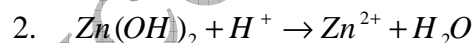


التمرين 01

1. وازن المعادلات الكيميائية التالية :



2. وازن المعادلات الكيميائية التالية ، وأعط القوانين المستعملة :



3. وازن المعادلات الكيميائية التالية ، وأعط القوانين المستعملة :

